



# HEZIKETA ZIKLOETARA SARTZEKO PROBA PRUEBA DE ACCESO A CICLOS FORMATIVOS

## Goi Mailako Zikloak / Ciclos de Grado Superior

Atal espezifikoa / Parte específica

# A

## Geografia/ Geografía>

---

<b>NAN / DNI</b>		<b>Izena / Nombre</b>	
<b>Abizenak / Apellidos</b>			
<b>Sinadura / Firma</b>			

2020ko maiatza / mayo de 2020



I. UNE CADA CONCEPTO CON SU DEFINICIÓN. PARA ELLO, COMPLETA LA TABLA QUE ESTÁ A LA DERECHA, RELACIONANDO CADA NÚMERO (CONCEPTO) CON SU LETRA CORRESPONDIENTE (DEFINICIÓN). (2 p.)

1. CLIMA	<p><b>A.</b> Acuerdo firmado en 1992 y que entra en vigor en 1993, por el que la Comunidad Europea cambia de nombre y se convierte en Unión Europea, además de profundizar en los objetivos comunes.</p> <p><b>B.</b> Son los movimientos espaciales de la población. Estos pueden ser definitivos o temporales, locales, regionales o internacionales.</p> <p><b>C.</b> Conjunto de condiciones ambientales de un lugar determinado, caracterizado por ser el promedio de los estados del tiempo, calculado mediante observaciones realizadas durante un largo periodo (entre 10 y 30 años).</p> <p><b>D.</b> Modelo de crecimiento económico capaz de satisfacer las necesidades actuales sin comprometer los recursos y posibilidades de las futuras generaciones.</p> <p><b>E.</b> Proceso histórico de integración mundial en los ámbitos económico, político, tecnológico, social y cultural, que ha convertido al mundo en un lugar cada vez más interconectado.</p> <p><b>F.</b> Proceso que supone el paso de una economía basada en el sector primario y secundario, a una economía en la que el mayor peso lo tiene el sector servicios.</p> <p><b>G.</b> Formación vegetal formada por especies que pierden las hojas durante la estación difícil (el invierno en las latitudes templadas) y las recuperan a partir de la primavera.</p> <p><b>H.</b> Desarrollo urbanístico planificado realizado fuera del casco antiguo de las ciudades debido a la falta de suelo urbanizable en los núcleos urbanos industrializados desde mediados del siglo XIX hasta mediados del siglo XX.</p>	1	
2. GLOBALIZACIÓN		2	
3. ENSANCHE		3	
4. TERCIARIZACIÓN		4	
5. MIGRACIONES		5	
6. TRATADO DE MAASTRICHT		6	
7. DESARROLLO SOSTENIBLE		7	
8. BOSQUE CADUCIFOLIO		8	

## II. LOS CLIMAS DE ESPAÑA (2 p)

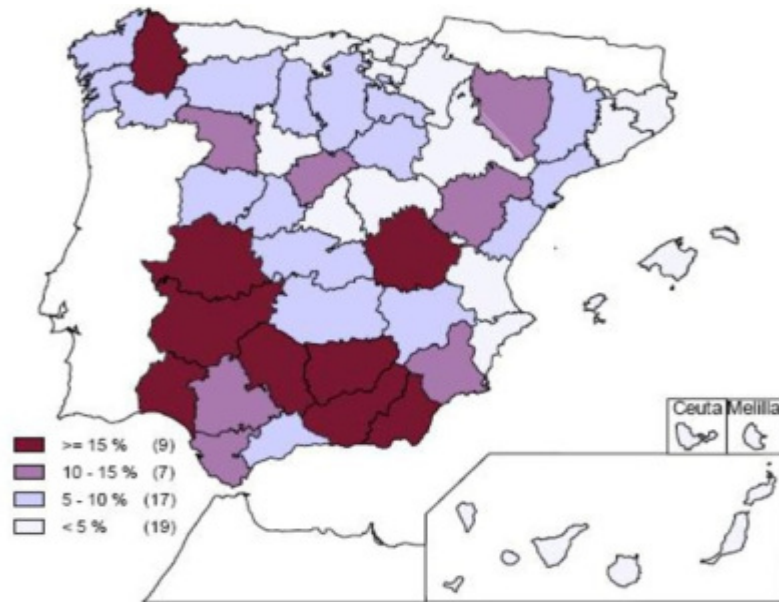


ESCRIBE A CONTINUACIÓN DEL NÚMERO LA RESPUESTA CORRECTA (una para cada celda):

Tipo de Clima	Vegetación natural asociada
<b>1:</b> a) Clima mediterráneo marítimo b) Clima de montaña c) Clima oceánico	<b>1:</b> a) Bosque caducifolio b) Bosque perennifolio de encina c) Matorral tipo garriga
<b>2:</b> a) Clima mediterráneo seco b) Clima mediterráneo marítimo c) Clima mediterráneo continentalizado	<b>2:</b> a) Bosque perennifolio de encina b) Laurisilva, cardones y tabaibas c) Matorral xerófilo
<b>3:</b> a) Clima oceánico b) Clima mediterráneo marítimo c) Clima mediterráneo continentalizado	<b>3:</b> a) Bosque mixto caducifolio b) Bosque perennifolio de encina c) Bosque caducifolio, coníferas, prados
<b>4:</b> a) Clima de montaña b) Clima oceánico c) Clima mediterráneo continentalizado	<b>4:</b> a) Bosque caducifolio b) Vegetación dividida en pisos c) Matorral tipo maquia y garriga
<b>5:</b> a) Clima mediterráneo seco b) Clima oceánico c) Clima canario	<b>5:</b> a) Laurisilva, cardones y tabaibas b) Bosque perennifolio de encina c) Bosque caducifolio
<b>6:</b> a) Clima mediterráneo continentalizado b) Clima mediterráneo seco c) Clima mediterráneo marítimo	<b>6:</b> a) Matorral xerófilo b) Bosque caducifolio c) Matorral tipo maquia y garriga

### III. MAPA DE PORCENTAJES DE POBLACIÓN AGRARIA EN ESPAÑA (2 p)

CONTESTA LAS SIGUIENTES PREGUNTAS ELIGIENDO LA RESPUESTA CORRECTA DE ENTRE LAS OPCIONES QUE SE OFRECEN:



1- Indica el nombre de las provincias en las que el porcentaje de población agraria supera el 15% del total: (señala los correctos con una X en la celda vacía de la izquierda):

	a) Murcia
	b) Burgos
	c) Jaén
	d) Álava
	e) Cádiz
	f) Cáceres
	g) Soria

2- Indica el nombre de las provincias en las que el porcentaje de población agraria se sitúa entre el 10% y el 15% del total: (señala los correctos con una X en la celda vacía de la izquierda):

	a) Badajoz
	b) Burgos
	c) Sevilla
	d) Bizkaia
	e) Cádiz
	f) Valladolid
	g) Segovia



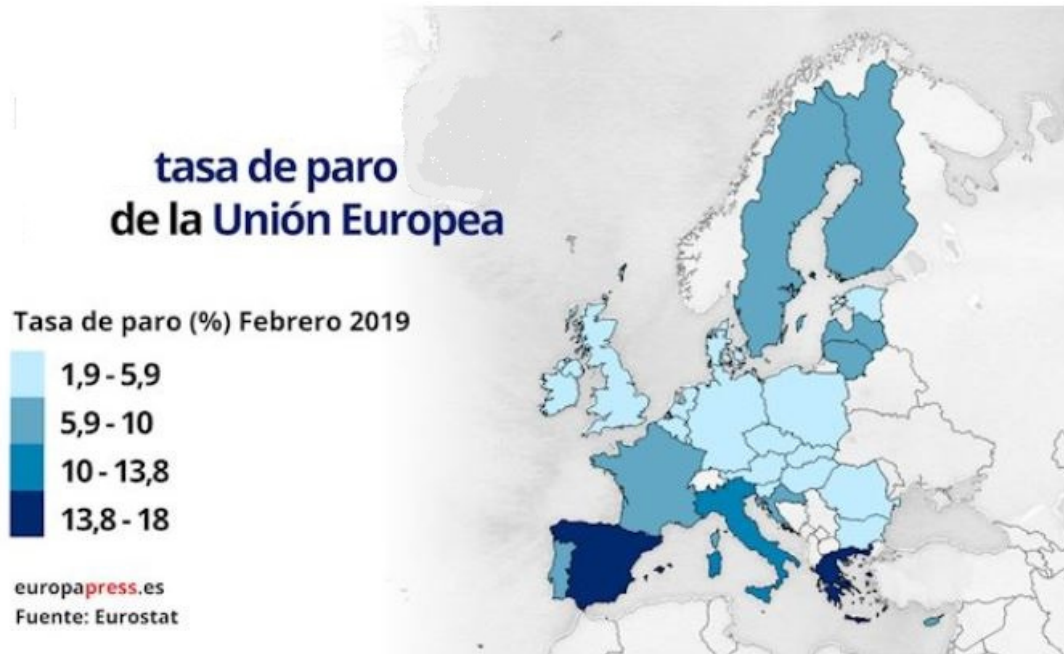
3) Indica el nombre de las provincias en las que el porcentaje de población agraria es inferior al 5% del total (señala los correctos con una X en la celda vacía de la izquierda):

	a) Alicante
	b) Toledo
	c) Jaén
	d) Tarragona
	e) Barcelona
	f) Málaga
	g) León

4) El porcentaje de población agraria inferior al 5% del total en esas provincias puede deberse a estos motivos (señala los correctos con una X en la celda vacía de la izquierda):

	a) Son zonas de relieve poco apto para actividades agrarias
	b) Predominio de actividades industriales
	c) El clima no favorece el desarrollo de actividades agrarias
	d) La explotación forestal es muy importante
	e) Hay un gran desarrollo de actividades relacionadas con el turismo
	f) La presencia de una agricultura extensiva muy desarrollada.

#### IV. MAPA DE LA TASA DE PARO EN LA UNIÓN EUROPEA (2 p)



OBSERVA EL MAPA Y CONTESTA LAS SIGUIENTES PREGUNTAS:

1. ¿Qué dos países de la U.E. presentan los valores más altos en la tasa de paro?

---

2. ¿Escribe el nombre de dos países de la U.E. cuya tasa de paro se sitúe entre el 1,9% y el 5,9%?

---

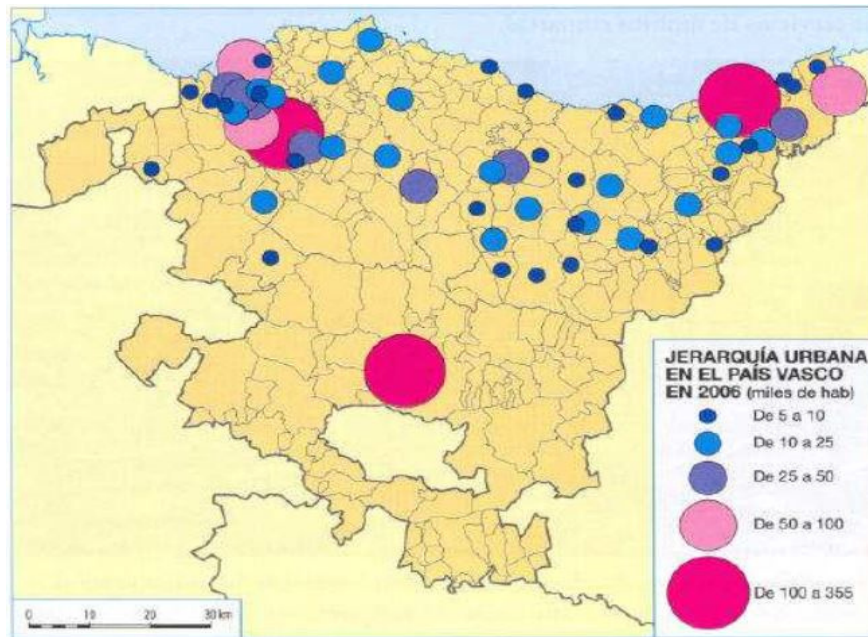
3. Indica la tasa de paro correspondiente a los siguientes países (escribe en la celda de la izquierda el intervalo correspondiente que aparece en la leyenda):

a. Letonia	
b. Suecia	
c. Croacia	
d. Polonia	

4. Indica con una X en las celdas de la izquierda cuáles pueden ser las causas de las tasas de paro más elevadas:

<input type="checkbox"/>	a) Se dan en países con un gran volumen de trabajadores poco cualificados.
<input type="checkbox"/>	b) Se producen en países donde no existe legislación laboral.
<input type="checkbox"/>	c) Las condiciones de su mercado laboral son poco flexibles.
<input type="checkbox"/>	d) La emigración hacia otros países ha reducido drásticamente el volumen de población activa.
<input type="checkbox"/>	e) En esos países la oferta de empleo es prácticamente inexistente.

## V. MAPA DE JERARQUÍAS URBANAS DEL PAÍS VASCO (2 p)



Observa el mapa y contesta correctamente las siguientes preguntas:

a) ¿En qué **provincias** del País Vasco se concentra la mayor parte de la población?

---

b) ¿Qué **comarcas** concentran el mayor volumen de población en Euskadi? Escribe **dos** ejemplos.

---

c) Indica con una X, de entre los que aparecen en la lista, dos **municipios** con una población comprendida entre 50.000 y 100.000 habitantes:

<input type="checkbox"/>	1.Durango
<input type="checkbox"/>	2.Vitoria- Gasteiz
<input type="checkbox"/>	3.Getxo
<input type="checkbox"/>	4.Eibar
<input type="checkbox"/>	5.Amurrio
<input type="checkbox"/>	6.Irún
<input type="checkbox"/>	7.Munguía

d) ¿A qué se debe la práctica inexistencia de núcleos de población de menos de 100.000 habitantes en la mitad sur de la C.A.P.V.? (Señala con una X las respuestas correctas).

<input type="checkbox"/>	1. Al abandono provocado por el éxodo rural.
<input type="checkbox"/>	2. A su abrupto relieve y clima extremo.
<input type="checkbox"/>	3. A la presencia de un denso tejido industrial.
<input type="checkbox"/>	4. Al envejecimiento de la población.
<input type="checkbox"/>	5. A la atracción ejercida por núcleos industriales y de servicios.



**I. LOTU KONTZEPTU BAKOITZA BERE DEFINIZIOAREKIN. HORRETARAKO, ESKUMALDEKO ZUTABEA BETE BEHAR DUZU ZENBAKI BAKOITZARI (KONTZEPTUA) DAGOKION LETRAREKIN (DEFINIZIOA) ERLAZIONATUZ. (2 p.)**

1. KLIMA	A. 1992. urtean sinatuta eta 1993. urtean indarrean sartutako akordioa. Honen bitartez Europar Erkidegoak "Europar Batasuna" izena hartu zuen eta helburu komun batzuetan sakondu zuen.	1	
2. GLOBALIZAZIOA	B. Biztanleriaren mugimenduak dira. Behinbetikoak edo denboraldikoak, tokikoak, eskualdekoak edo nazio-artekoak izan ahal dira.	2	
3. ZABALGUNEA	C. Epe luze batean zehar leku jakin bateko atmosferak izan duen batez besteko egoera eta garapenaren ezaugarri diren fenomeno meteorologikoen multzoa.	3	
4. TERTZIARIZAZIOA	D. Garapen ekonomiko eredu hau oraingo beharrak asetzeaz gain, geroko belaunaldien baliabide eta ahalbideak bermatzeko gai da.	4	
5. MIGRAZIOAK	E. Prozesu bat da munduko ekonomien arteko mendekotasun eta integrazioa tartean sartuta dagoena. Honek hainbat esparruri aipamen egiten dio: ekonomikoari, kulturalari, teknologikoari...	5	
6. MAASTRICHTEKO ITUNA	F. Eremu epeleko landaredi formazioa da Hauetan zuhaitzek urtaro gogorrean hostoak galtzen dituzte. Udaberrian berriro ateratzen zaizkie.	6	
7. GARAPEN JASANGARRIA	G. Jarduera ekonomikoaren barnean hirugarren sektorearen hazkunde nabarmena dakarren eraldaketa ekonomiko eta soziala; eta horrela, lanpostu gehien sortzen dituen eta BPGari gehien ematen dion sektorea izatera pasatzen da.	7	
8. BASO HOSTOGALKORRA	H. XIX. mendearen erditik XX. mendearen lehen herenera bitartean egindako hirien zabalkuntzak okupatzen duen espazioa da. Industrializazioa eta hirietako hazkunde demografikoaren eraginez alde zaharra gainditu eta espazio berriak sortu ziren burgesia eta langileentzat.	8	



## II. ESPAINIAKO KLIMEN MAPA (2 p)

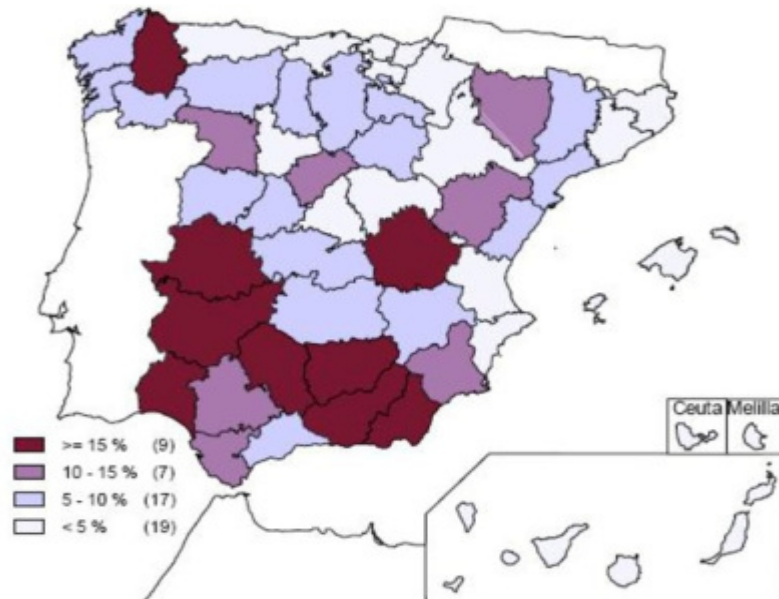


IDATZI ERANTZUN ZUZENA ZENBAKIAREN ATZEAN (una para cada celda):

Klima Mota	Landaredi naturala
<b>1:</b> a) Klima mediterranear itsasertzekoa b) Mendialdeko klima c) Klima ozeanikoa	<b>1:</b> a) Baso hostogalkorra b) Baso iraunkorra (artadia) c) Garriga motako sastraka
<b>2:</b> a) Klima mediterranear lehorra b) Klima mediterranear itsasertzekoa c) Klima mediterranear barrualdekoa	<b>2:</b> a) Baso iraunkorra (artadia) b) Laurisilva, cardon eta tabaibak c) Sastraka xerofiloa
<b>3:</b> a) Klima ozeanikoa b) Klima mediterranear itsasertzekoa c) Klima mediterranear barrualdekoa	<b>3:</b> a) Baso misto hostogalkorra b) Baso iraunkorra c) Baso hostogalkorra, pinudia, belardiak
<b>4:</b> a) Mendialdeko klima b) Klima ozeanikoa c) Klima mediterranear barrualdekoa	<b>4:</b> a) Baso hostogalkorra b) Pisutan banadutako landaredia c) Makia edo Garriga motako sastraka
<b>5:</b> a) Klima mediterranear lehorra b) Klima ozeanikoa c) Klima kanariar subtropikala	<b>5:</b> a) Laurisilva, cardon eta tabaibak b) Baso iraunkorra (artadia) c) Baso hostogalkorra
<b>6:</b> a) Klima mediterranear barrualdekoa b) Klima mediterranear lehorra c) Klima mediterranear itsasertzekoa	<b>6:</b> a) Sastraka xerofiloa b) Baso hostogalkorra c) Makia edo Garriga motako sastraka

### III. ESPAINIAKO NEKAZARI- BIZTANLERIAREN MAPA (PORTZENTAIETAN) (2 p)

EMAN ERANTZUN ZUZENA HURRENGO GALDEREI AGERTZEN DIREN ARTEKO-  
ETATIK AUKERATUZ:



1- Esan zein probintziek daukaten %15a baino handiagoa den nekazari-biztanleriaren kopurua (markatu X-arekin zuzen direnak ezker aldeko gelaxka hutsetan):

	a) Murtzia
	b) Lugo
	c) Jaén
	d) Araba
	e) Cádiz
	f) Cáceres
	g) Soria

2- Esan zein probintziek daukaten %10 eta %15 bitartekoa den nekazari-biztanleriaren kopurua (markatu X-arekin zuzen direnak ezker aldeko gelaxka hutsetan):

	a) Badajoz
	b) Burgos
	c) Sevilla
	d) Bizkaia
	e) Cádiz
	f) Valladolid
	g) Segovia



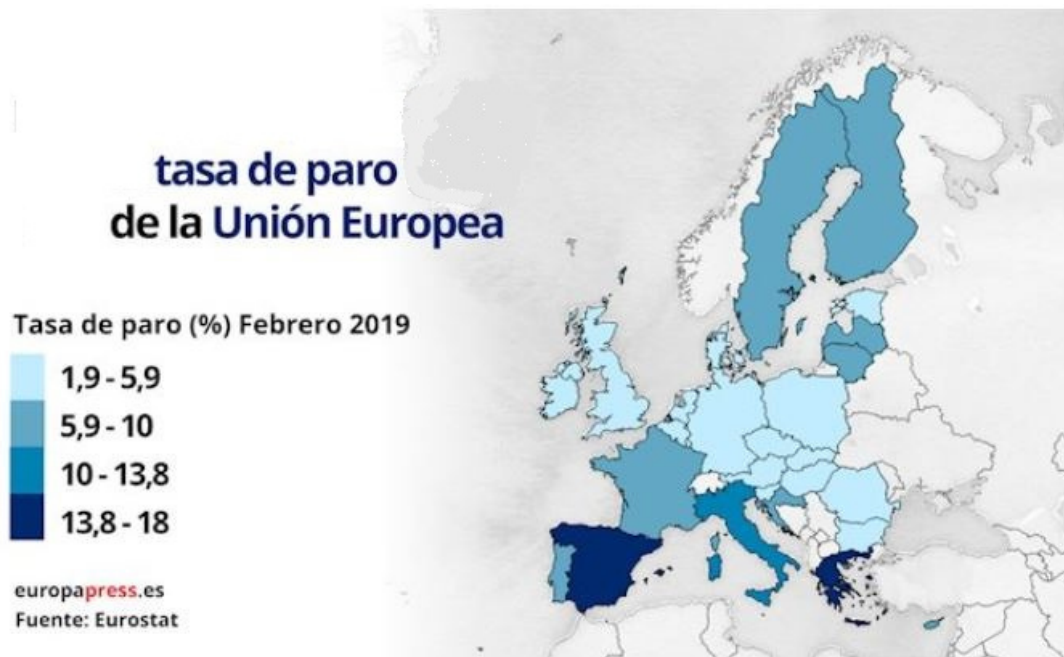
3) Esan zein probintziek daukaten %5a baino txikiagoa den nekazari-biztanleriaren kopurua (markatu X-arekin zuzen direnak ezker aldeko gelaxka hutsetan):

	a) Alacant
	b) Toledo
	c) Jaén
	d) Bizkaia
	e) Bartzelona
	f) Málaga
	g) León

4) Probintzia batzuetan nekazi-biztanleriaren kopurua %5a baino txikiagoa da. Egoera honen arrazoiak hauetariko batzuk izan daitezke. Aukeratu erantzun zuzenak direnak eta markatu X-arekin eskerraldeko gelaxketan):

	a) Eremu horietako erliebea ez da gai nekazaritza jardueretako
	b) Industria jardueren nagusitasunagatik
	c) Eremu horietako klima ez da egokia nekazaritza jarduetarako
	d) Basogintza oso garrantzitsua da lurralde horietan
	e) Turismoarekin lotuta dauden jarduerak oso garatuta daude
	f) Nekazaritza estensiboa oso hedatua dago eremu hauetan

#### IV. EUROPAR BATASUNENKO LANGABEZIA TASA MAPA (2 p)



BEGIRATU MAPARI ETA ERANTZUN HURRENGO GALDEREI:

1. Zein Europar Batasuneko **bi** herrialdetan dago langabezia tasarik altuena?

2. Europar Batasuneko herrialde askotan langabezia tasa %1,9 eta %5,9 artekoa da. Idatzi hauetako **bi** izen.

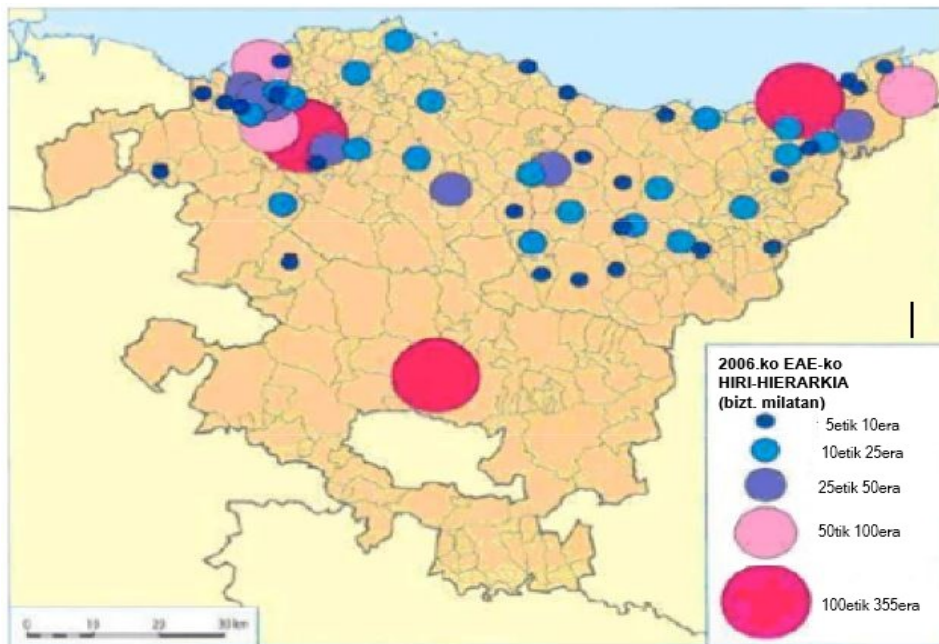
3. Idatzi eskumaldeko gelaxketan herrialde bakoitzari dagokion langabezia tasa (kopiatu legendan agertzen den bitarte zuzena):

a. Letonia	
b. Suecia	
c. Croacia	
d. Polonia	

4. Markatu X-arekin ezkerreko gelaxketan zeintzuk izan ahal diren **langabezia tasa altuenen** kausak:

<input type="checkbox"/>	a) Herrialde horietan kualifikatu gabeko langile asko dago.
<input type="checkbox"/>	b) Herrialde horietan ez dago Lan legedirik.
<input type="checkbox"/>	c) Haien lan merkatu baldintzak ez dira oso malguak
<input type="checkbox"/>	d) Kanpoko emigrazioa izugarri txikitu du biztanleria aktiboaren kopurua
<input type="checkbox"/>	e) Herrialde horietan ez dago lan eskaintzarik.

## V. EUSKADIKO HIRI HIERARKIEN MAPA (2 p)



Begiratu mapari eta erantzun zuzentasunez hurrengo galderari:

a) Zein **probintzian** biltzen da Euskadiko biztaleriaren gehiengoa?

b) Zein **eskualdetan** biltzen da Euskadiko biztaleriaren gehiengoa? Idatzi **bi adibide**.

c) Seinalatu X-arekin, zerrendan agertzen diren artekoak, 50.000 eta 100.000 arteko biztalez dituen **bi udalerrri**:

	1.Durango
	2.Vitoria- Gasteiz
	3.Getxo
	4.Eibar
	5.Amurrio
	6.Irun
	7.Mungia

d) Zergatik dago 10.000 biztanle baino handiagoko hain hiri-nukleo kopuru txikia Erkidegoko hegoaldean? (Markatu X-arekin erantzun zuzenak ezker aldeko gelaxka hutsean).

	1. Landa exodoak biztanleria-uztea eragin zuelako.
	2. Bere erliebe malkartsu eta klima gogorragatik.
	3. Industria sare trinkoa dagoelako.
	4. Biztanleriaren zahartzeagatik.
	5. Industria eta zerbitzu hiriek eragindako erakarpenagatik.